

Prénom:

Nom:

Fichier "Recherches Correction"

CE1: Période 1





1

Je cherche:

**Kamel a ramassé 18 tomates et Louisa
en a ramassé 6.
Combien de tomates ont-ils ramassées ?**

Je modélise:

**Kamel :
18**

**Louisa :
6**

Total : ?

Je calcule:

$$18 + 6 = 24$$

Je réponds:

Ils ont ramassé 24 tomates.

2

Je cherche:

Les animateurs du centre aéré de Jonage ont acheté 8 ballons rouges et 14 ballons bleus.
Combien de ballons ont-ils achetés ?

Je modélise:

bleus :
14

rouges:
8

Total : ?

Je calcule:

$$14 + 8 = 22$$

Je réponds:

Ils ont acheté 22 ballons.

3

Je cherche:

Dans le jardin de sa tante, Lina a ramassé 18 pommes. Elle en donne 4 à sa tante.
Combien de pommes lui reste-t-il ?

Je modélise:

reste : ?

tante : 4

Total : 18

Je calcule:

$$18 - 4 = 14$$

Je réponds:

Il lui reste 14 pommes.

4

Je cherche:

Ma voisine a ramassé 29 oeufs dans son poulailler.
Elle en a vendu 10. Combien d'oeufs lui reste-t-il ?

Je modélise:

vendus :
10

reste : ?

Total : 29

Je calcule:

$$29 - 10 = 19$$

Je réponds:

Il lui reste 19 oeufs.

5

Je cherche:

Lors de leur balade en forêt, Inès et Vincent ont
ramassé chacun 13 châtaignes.
Combien de châtaignes ont-ils ramassées ?

Je modélise:

Inès :
13

Vincent:
13

Total : ?

Je calcule:

$$13 + 13 = 26$$

Je réponds:

Ils ont ramassé 26 châtaignes.



6

Je cherche:

**Yann a 12 euros. Zoé a 19 euros.
Combien Zoé a-t-elle d'argent en plus ?**

Je modélise:

Je calcule:

Yann :
12

écart ?

$$19 - 12 = 7$$

Zoé : 19



Je réponds :

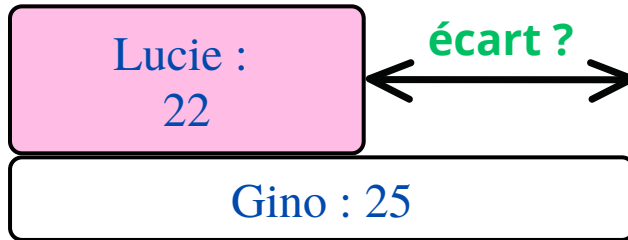
Zoé a 7 euros en plus.

7

Je cherche:

Gino pèse 25 kilos. Lucia pèse 22 kilos.
Combien de kilos Lucia pèse-t-elle
de moins que Gino ?

Je modélise:



Je calcule:

$$25 - 22 = 3$$

Je réponds:

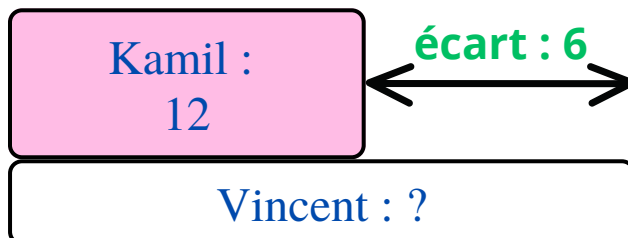
Lucia pèse 3 kgs de moins que Gino.

8

Je cherche:

Kamil a marqué 12 buts. C'est 6 buts de moins que
son ami Vincent.
Combien de buts ont été marqués par Vincent ?

Je modélise:



Je calcule:

$$12 + 6 = 18$$

Je réponds:

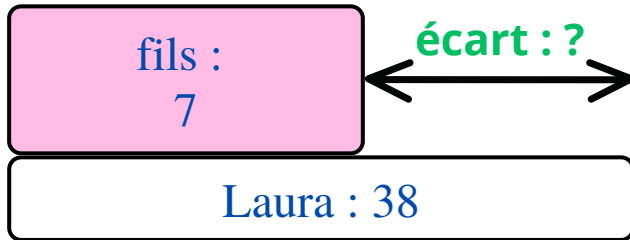
Vincent a marqué 18 buts.

9

Je cherche:

Laura a 38 ans. Son fils a 7 ans.
Quel est l'écart d'âge entre Laura et son fils ?

Je modélise:



Je calcule:

$$38 - 7 = 31$$

Je réponds:

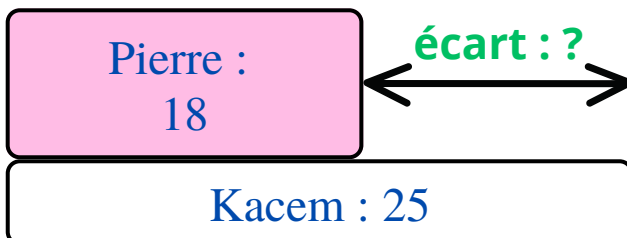
L'écart est de 31 ans.

10

Je cherche:

Pierre a apporté 18 fraises pour le goûter.
Kacem en a apporté 25.
Combien de fraises de plus Kacem a-t-il apportées ?

Je modélise:



Je calcule:

$$25 - 18 = 7$$

Je réponds:

Kacem a apporté 7 fraises de plus.

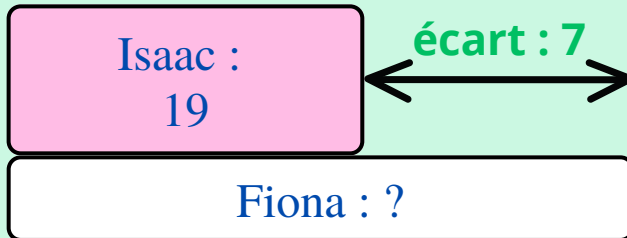


11

Je cherche:

En Irlande, Isaac a vu 19 matchs de rugby.
Fiona en a vu 7 de plus.
Combien de matchs Fiona a-t-elle vus ?

Je modélise:



Je calcule:

$$19 + 7 = 26$$

Je réponds:

Fiona a vu 26 matchs.

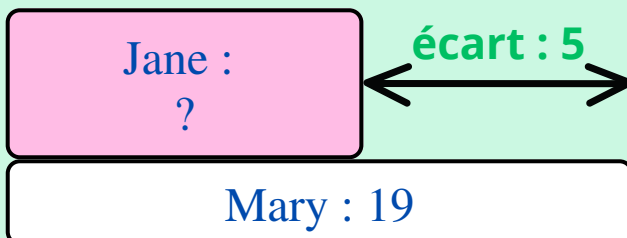


12

Je cherche:

En Écosse, Mary a passé 19 nuits dans un château.
C'est 5 nuits de plus que son amie Jane. Combien de
nuits Jane a-t-elle dormies dans un château ?

Je modélise:



Je calcule:

$$19 - 5 = 14$$

Je réponds:

Jane a passé 14 nuits dans un château.