

Prénom:

Nom:

Fichier "Recherches Corrections"

CE2: Période 1





1

Je cherche:

**Jenny a acheté 54 poires et Ninon en a acheté 39.
Combien de poires ont-elles achetées ?**

Je modélise:

Jenny :
54

Ninon :
39

Total : ?

Je calcule:

$$54 + 39 = 93$$

Je réponds:

Elles ont acheté 93 poires.

2

Je cherche:

La maîtresse a distribué 80 jetons à sa classe de CE1-CE2. Elle a distribué 35 jetons à ses CE1. Combien de jetons a-t-elle distribués à ses CE2 ?

Je modélise:

CE1 : 35	CE2 : ?
Total : 80	

Je calcule:

$$80 - 35 = 45$$

Je réponds:

Elle a distribué 45 jetons à ses CE2.

3

Je cherche:

Émilie a acheté 75 fleurs ces deux dernières semaines. Elle a acheté 27 fleurs la première semaine. Combien de fleurs a-t-elle achetées la deuxième semaine ?

Je modélise:

1ère semaine : 27	2ème semaine: ?
Total : 75	

Je calcule:

$$75 - 27 = 48$$

Je réponds:

Elle a acheté 48 fleurs la deuxième semaine.

4

Je cherche:

Le maître nageur a distribué 37 paires de lunettes aux CE1 et 48 aux CE2.

Combien de paires de lunettes a-t-il distribuées ?

Je modélise:

CE1 :
37

CE2 :
48

Total : ?

Je calcule:

$$37 + 48 = 85$$

Je réponds:

Il a distribué 85 paires de lunettes.

5

Je cherche:

Puis, le maître nageur a distribué 89 frites aux CE1-CE2. Il en a donné 48 aux CE2.

Combien de frites a-t-il données aux CE1 ?

Je modélise:

CE1 :
?

CE2 :
48

Total : 89

Je calcule:

$$89 - 48 = 41$$

Je réponds:

Il a donné 41 frites aux CE1.

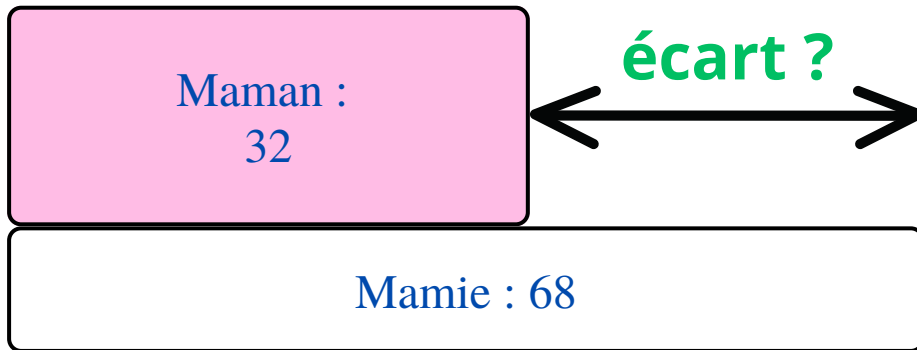


6

Je cherche:

**Mamie a 68 ans. Maman a 32 ans.
Combien d'années Mamie a-t-elle de plus ?**

Je modélise:



Je calcule:

$$68 - 32 = 36$$

Je réponds:

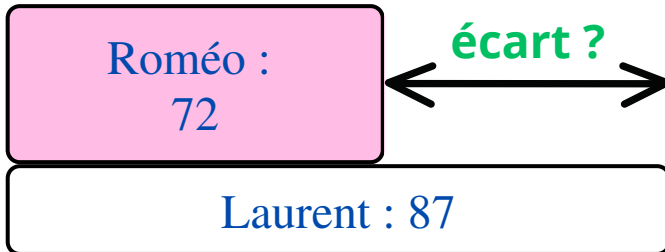
Mamie a 36 ans de plus que maman.

7

Je cherche:

Laurent pèse 87 kilos. Roméo pèse 72 kilos.
Combien de kilos Roméo pèse-t-il de moins que
Laurent ?

Je modélise:



Je calcule:

$$87 - 72 = 15$$

Je réponds:

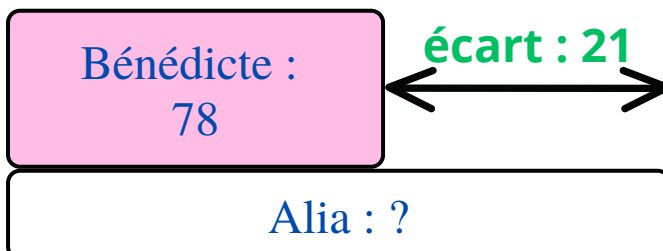
Roméo pèse 15 kilos de moins que Laurent.

8

Je cherche:

Au cours d'une brocante, Bénédicte a vendu pour 78
euros de vêtements. C'est 21 euros de moins que
son amie Alia. Quelle somme Alia
a-t-elle récoltée au cours de cette brocante ?

Je modélise:



Je calcule:

$$78 + 21 = 99$$

Je réponds:

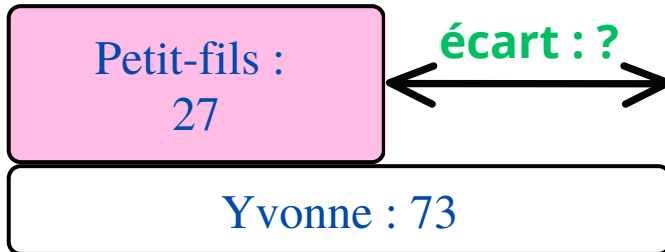
Alia a récolté 99 euros.

9

Je cherche:

Yvonne a 73 ans. Son petit fils a 27 ans.
Quel est l'écart d'âge entre Yvonne et son petit-fils ?

Je modélise:



Je calcule:

$$73 - 27 = 46$$

Je réponds:

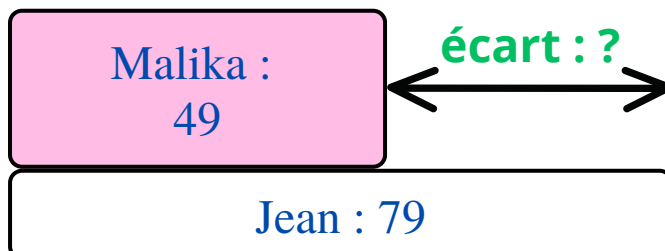
L'écart est de 46 ans.

10

Je cherche:

Jean met 79 minutes pour se rendre au travail. Sa femme Malika met 49 minutes pour se rendre au sien. Combien de minutes de plus que Malika, Jean met-il pour se rendre au travail ?

Je modélise:



Je calcule:

$$79 - 49 = 30$$

Je réponds:

Jean met 30 minutes de plus que Malika.

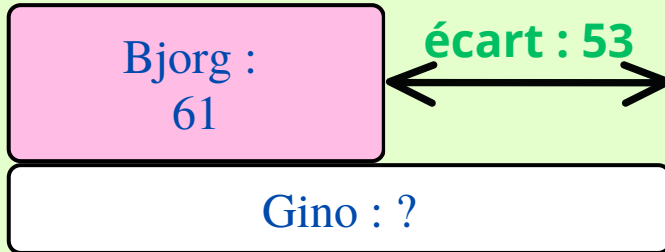


11

Je cherche:

Lors de son voyage en Islande, Bjorg a découvert 61 volcans. Gino en a vu 53 de plus.
Combien de volcans Gino a-t-il vus ?

Je modélise:



Je calcule:

$$61 + 53 = 114$$

Je réponds:

Gino a vu 114 volcans.

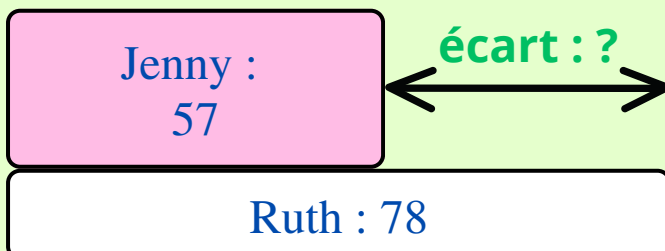


12

Je cherche:

Au cours de leur semaine de vacances dans la "Forêt Noire" en Allemagne, Ruth a randonnée 78 km et Jenny 57 km. Combien de kilomètres de plus que Jenny, Ruth a-t-elle randonnée ?

Je modélise:



Je calcule:

$$78 - 57 = 21$$

Je réponds:

Ruth a randonnée 21 kms de plus que Jenny.