

Prénom : .....

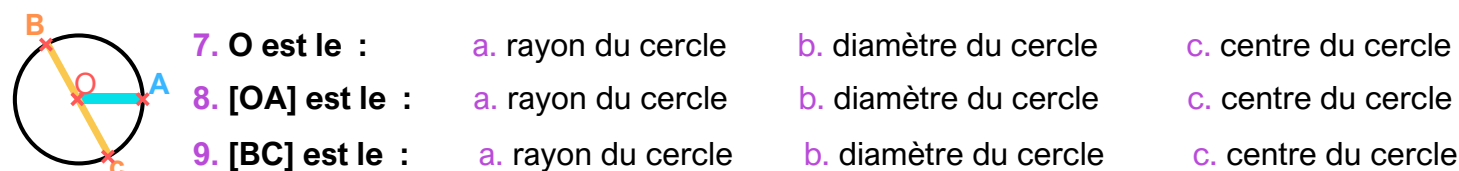
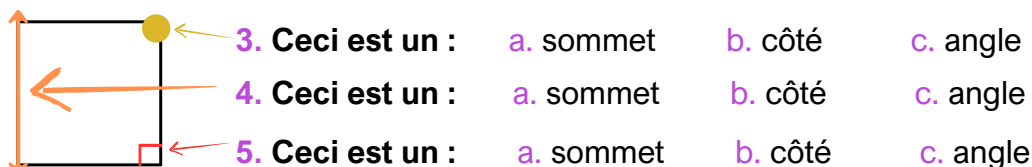
NOM : .....

## Évaluation de GÉOMÉTRIE CM1 : Période 1

**GEOM 1 : Utiliser le vocabulaire géométrique approprié dans le contexte d'apprentissage des notions correspondantes**

**1. Entoure la bonne réponse :**

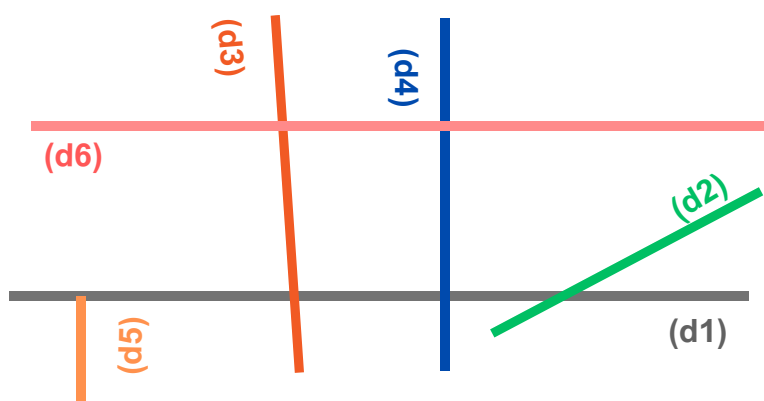
1. Comment va-t-on noter une droite ? :    a. (d)    b. [d]    c. [d]  
 2. Comment va-t-on noter un segment ? :    a. (AB)    b. [AB]    c. [AB)



**GEOM 4 : Reconnaître et utiliser la notion de perpendicularité**

**GEOM 5 : Reconnaître et utiliser la notion de parallélisme**

**2. Coche la bonne réponse :**



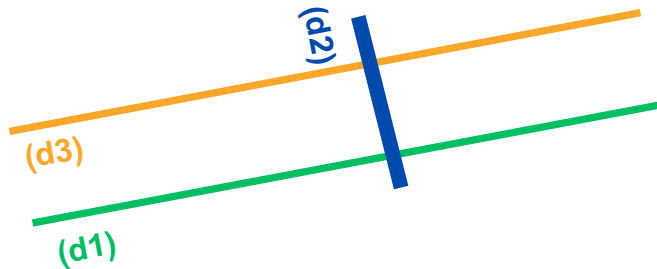
(d1) et (d2) sont perpendiculaires	<input type="radio"/> V <input type="radio"/> F
(d1) est perpendiculaire à (d4)	<input type="radio"/> V <input type="radio"/> F
(d1) et (d5) sont perpendiculaires	<input type="radio"/> V <input type="radio"/> F
(d3) et (d4) sont parallèles	<input type="radio"/> V <input type="radio"/> F
(d1) est parallèle à (d6)	<input type="radio"/> V <input type="radio"/> F
(d1) est perpendiculaire à (d3)	<input type="radio"/> V <input type="radio"/> F

3.

- a. Trace une droite (d1).
- b. Place les points A et B sur (d1).
- c. Trace la droite (d2) perpendiculaire à (d1) passant par A.
- d. Trace la droite (d3) perpendiculaire à (d1) passant par B.

4. : Reproduis cette figure et marque les angles droits. (avec une équerre)

(d1) et (d3)  
sont parallèles.



**Pense à te relire !**

